

परीक्षा सांकेतांक 1124	पेपर सांकेतांक : 302 (SS)	प्रश्नपत्रिका क्रमांक
वेळ : दुपारी 2:30 ते 5:00	माध्यम : उर्दू	U-II : 3006806

बैठक क्रमांक

--	--	--	--	--	--	--	--

संच

B

एकूण गुण :	150
एकूण पृष्ठ :	36

पेपर II (इ. 6वी ते इ. 8वी)
सामाजिक शास्त्रे



प्रश्नपत्रिका सोडविण्यापूर्वी खालील सूचना काळजीपूर्वक वाचा

टीप : सूचनांची इंग्रजी आवृत्ती या पुस्तिकेच्या मागील मलपृष्ठावर छापलेली आहे.

Note : English version of the instructions are printed on the back cover of this Booklet.

“तुम्ही निवडलेल्या ऐच्छिक विषयाची प्रश्नपत्रिका मिळाल्याची खात्री करावी.”

सूचना :

- परीक्षार्थीने आपला बैठक क्रमांक त्यांना पुरविलेल्या प्रश्नपत्रिकेवर विहित ठिकाणी नोंदवावा.
 - OMR SHEET वर विहित जागेत प्रश्नपत्रिकेचा अनुक्रमांक नोंदवावा.
 - प्रश्नपत्रिकेमध्ये सलग एकूण 150 प्रश्न असून ते सोडविण्यासाठी उमेदवारास 150 मिनिटे (अडीच तास) वेळ देण्यात आलेला आहे. प्रत्येक प्रश्नास एक गुण आहे. सर्व प्रश्न सोडविणे आवश्यक आहे.
 - प्रत्येक प्रश्न वस्तुनिष्ठ स्वरूपाचा असून प्रश्नाच्या खाली उत्तराचे चार पर्याय दिलेले आहेत. त्यापैकी उत्तराचा एकच पर्याय अचूक असून तो OMR SHEET वर नोंदवावा. उत्तरे नोंदविण्यासाठी काळ्या किंवा निळ्या बॉलपेनचाच वापर करावा. अचूक उत्तर असलेल्या पर्याय क्रमांकाचा गोल पूर्णपणे रंगवावा. अर्धवट रंगवलेले गोल, खाडाखोड अथवा एकाच प्रश्नासाठी दोन उत्तरे दर्शविलेली असतील अशा उत्तरांना गुण दिले जाणार नाहीत. एकदा दिलेले उत्तर बदलता येणार नाही.
 - कोणत्याही कारणामुळे प्रश्न रद्द करावा लागल्यास अचूक प्रश्नांच्या गुणांवर आधारित पात्रता निश्चित करण्यात येईल.
 - प्रश्नपत्रिकेत कोणत्याही प्रश्नांच्या उत्तराची नोंद करू नये. प्रश्नपत्रिकेचे कोणतेही पृष्ठ/भाग मूळ प्रश्नपत्रिकेपासून वेगळा करू नये.
 - कच्चे काम प्रश्नपत्रिकेमध्ये दर्शविण्यात आलेल्या जागेतच करण्यात यावे.
 - उत्तरपत्रिकेचा क्रमांक, प्रश्नपत्रिका अनुक्रमांक व संच कोड स्वाक्षरीपटावर लिहिणे आवश्यक आहे.
 - परीक्षा प्रवेशपत्राची मागणी केल्यास समवेक्षक/पर्यवेक्षकांना दाखवावे.
 - प्रश्नपत्रिकेमध्ये खालीलप्रमाणे विषयनिहाय विभाग आहेत :
- | विभाग | विषय | प्रश्न क्रमांक | गुण |
|-------|---------------------------------|----------------|-----|
| 1 | उर्दू | 1 ते 30 | 30 |
| 2 | इंग्रजी/मराठी | 31 ते 60 | 30 |
| 3 | बालमानसशास्त्र व अध्यापनशास्त्र | 61 ते 90 | 30 |
| 4 | सामाजिक शास्त्रे | 91 ते 150 | 60 |
- OMR उत्तरपत्रिका जमा करताना उत्तरपत्रिकेच्या एकूण तीन प्रती आहेत. त्यापैकी carbonless दोन प्रती असून त्यापैकी उमेदवाराची प्रत (शेवटची तिसरी प्रत) उमेदवाराने स्वतःकडे ठेवून ती मिळाल्याबाबतची स्वाक्षरी स्वाक्षरीपटावर नोंदवावी व परिषदेची प्रत व मुळ प्रत कोणत्याही परिस्थितीत वेगळी करू नये.
 - परीक्षा संपल्यानंतर समवेक्षकाच्या सूचनेशिवाय परीक्षागृह सोडू नये.
 - परीक्षार्थीने परीक्षा चालू असताना अथवा परीक्षा संपल्यानंतर परीक्षेसंबंधी कोणतेही साहित्य, कागद वगैरे परीक्षागृहाबाहेर नेल्यास त्याची या परीक्षेतील उमेदवारी रद्द होईल.
 - परीक्षाकक्षात मोबाईल, स्मार्ट वॉच, कॉलक्युलेटर, लॉगटेबल, रेडी रेकनर इत्यादी व इतर अनावश्यक साहित्य आणू नये.
 - परीक्षेसाठी विहित केलेली वेळ संपल्यानंतर ही प्रश्नपत्रिका स्वतःबरोबर परीक्षा कक्षाबाहेर घेऊन जाण्यास परवानगी आहे. परीक्षेची वेळ संपेपर्यंत सदर प्रश्नपत्रिकेची प्रत/प्रती किंवा प्रश्नपत्रिकेतील काही आशय कोणत्याही स्वरूपात प्रत्यक्ष वा अप्रत्यक्षपणे कोणत्याही व्यक्तीस पुरविणे तसेच प्रसिद्ध करणे हा गुन्हा असून अशी कृती करणाऱ्या व्यक्तीवर शासनाने जारी केलेल्या “परीक्षांमध्ये होणाऱ्या गैरप्रकारांना प्रतिबंध करण्याबाबतचे राज्याचा अधिनियम (1982)” यातील तरतुदीनुसार कारवाई करण्यात येईल.
 - परीक्षार्थींनी परीक्षेची विहित वेळ सुरू झाल्यानंतरच या प्रश्नपत्रिकेस लावलेले कागदी सील काढावे. परीक्षा सुरू होण्याच्या विहित वेळेपूर्वी सील काढू नये.
 - मराठी किंवा इतर माध्यम व इंग्रजी माध्यमाचा भाषांतरामध्ये संदिग्धता असल्यास सर्व माध्यमासाठी इंग्रजी माध्यमातील प्रश्न अंतिमरित्या ग्राह्य धरण्यात येतील.

SEAL

1. عربی حروف تہجی میں حروف ثنی کی تعداد -----
 (1) ۱۶ (2) ۱۴ (3) ۱۲ (4) ۲۰
2. 'رانی کے زیور' میں خط کشیدہ لفظ میں سے کس متبادل کو ظاہر کرتا ہے؟
 (1) حروف اضافت (2) حروف عطف (3) حرف جار (4) کاف بیانیہ
3. غیر متعلقہ لفظ پہچانیے :
 (1) مفلس (2) گدا (3) امیر (4) غریب
4. ہے نہیں تیرے سوا یہاں کوئی
 میزباں تو، میہماں تو ہے
 درج بالا شعر کے لئے کون سی صنعت مناسب ہے؟
 (1) مراعاة النظر (2) صنعت تضاد (3) صنعت مبالغہ (4) صنعت تلمیح
5. اتفاقاً، یقیناً، تقریباً، وقتاً فوقتاً
 کی مناسبت سے درست متبادل کیا ہوگا؟
 (1) زیر (2) جزم (3) تشدید (4) تنوین
6. درج ذیل متبادل میں ضمیر استفہام پہچانیے :
 (1) لوگ ووٹ دینے کے لئے جانے لگے (2) یہ سلیمانی ٹوپی کس کام کی
 (3) مجمع شہر کے ایک بڑے چوک میں پہنچا (4) اس فون پر جس سے چاہو بات کرو
7. 'تعزیت' لفظ کے لئے مناسب متبادل منتخب کیجئے :
 (1) بیمار کا حال پوچھنا
 (2) مذہبی جلوس
 (3) پڑوسیوں کی خیریت پوچھنا
 (4) کسی کے انتقال پر اس کے رشتے داروں کو تسلی دینا
8. محمد حسین آزاد کی تصنیف کا نام بتائیے :
 (1) قصص الہند (2) آب حیات (3) دربار اکبری (4) عود ہندی
9. قمر کو چاند کہتے ہیں، تو سورج کو -----
 (1) جھرمٹ (2) ستارے (3) خورشید (4) سیارے

10. حضرت عمر نے کن فنون میں مہارت حاصل کی؟
 (1) پہلوانی اور شہہ سواری (2) تلوار بازی اور پہلوانی
 (3) شہہ سواری اور تلوار بازی (4) مجسمہ سازی اور خطابت
11. پریم چند کا اصلی نام کیا ہے؟
 (1) نواب رائے (2) خان صاحب (3) رائے صاحب (4) دھپت رائے
12. لفظ 'کرشمہ' کا ہم معنی لفظ ہے -----
 (1) وبال (2) جمال (3) کمال (4) زوال
13. "کاش! اس وقت کسی نے میری مدد کی ہوتی" یہ جملہ ذیل میں سے کس کی مثال ہے؟
 (1) زمانہ ماضی (2) ماضی شرطیہ (3) ماضی احتمالی (4) ماضی تمنائی
14. 'آرام حرام ہے' یہ کیا ہے؟
 (1) شعر (2) خبر (3) نعرہ (4) محاورہ
15. "مرد کے لئے رونا اور اسکی خوبیاں بیان کرنا" کے لئے ذیل سے صحیح متبادل کا انتخاب کیجئے :
 (1) قصیدہ (2) مرثیہ (3) قطعات (4) مثنوی
16. لفظ 'عامل' کی جمع کا صحیح متبادل بتائیے :
 (1) علماء (2) معلمین (3) عمال (4) اعمال
17. مغرور — غرور کرنے والا، نازاں — ناز کرنے والا
 نفعور -----
 (1) انکار کرنے والا (2) نفرت کرنے والا
 (3) نفع کرنے والا (4) فکر کرنے والا
18. دئے گئے متبادل 'حروف' میں سے کس کی نشاندہی کرتے ہیں؟
 "ا-و-ی"
 (1) حروف صحیح (2) حروف علت (3) حروف عطف (4) حروف تہجی
19. ذیل کے جملے میں ضمیر اضافی کو ظاہر کرنے والا لفظ تلاش کیجئے :
 "اس نے اپنا سارا زیور اتار کر ان کی جھولی میں ڈال دیا"
 (1) میں (2) اپنا (3) ان (4) کی

इंग्रजी किंवा मराठी

31. Select the appropriate alternative to fill in the gap :
Pallavi me of a girl I used to know.
(1) remembers (2) reminds (3) recollects (4) recalls
32. Choose the most suitable 'one word' for the given expression :
'Witty and clever retort'
(1) Repartee (2) Platitude (3) Invective (4) Sarcasm
33. Choose the alternative to fill in the blanks :
She is Indian artist married to European engineer.
(1) an, the (2) an, an (3) an, a (4) a, an
34. Choose the correct alternative to fill in the blanks :
I am indebted you your help.
(1) at, for (2) to, about (3) of, for (4) to, for
35. Identify the figure of speech in the following line :
'O Christ ! It is the Inchcape Rock.'
(1) Synecdoche (2) Metonymy (3) Apostrophe (4) Litotes
36. Choose the correct passive construction of the given sentence :
He devises a series of plans to grab the attention of the cops.
(1) A series of plans is devised to grab the attention of the cops by him
(2) A series of plans are devised to grab the attention of the cops by him
(3) A series of plans was devised to grab the attention of the cops by him
(4) A series of plans were devised to grab the attention of the cops by him
37. Choose the correct indirect narration for the given sentence :
'Satish said to Kailas, "Why don't you call a policeman ?"
(1) Satish asked Kailas why he didn't call a policeman.
(2) Satish asked Kailas why didn't he call a policeman.
(3) Satish asked Kailas that why he didn't call a policeman.
(4) Satish asked Kailas that why he doesn't call a policeman.
38. Select the combination of numbers so that alphabets arranged accordingly will form a meaningful word :
I P U T U S R
1 2 3 4 5 6 7
(1) 4517326 (2) 2351476 (3) 2576314 (4) 7561342
39. Choose the correct complex sentence for the given sentence :
His silence proves his guilt.
(1) He is silent and it proves his guilt.
(2) In spite of being silent, the fact proves his guilt.
(3) Though he is silent, the fact proved his guilt.
(4) The fact that he is silent proves his guilt.
40. Name the underlined clause.
The reason why I did it is obvious.
(1) Noun clause (2) Adjective clause
(3) Adverb clause of reason (4) Adverb clause of purpose

41. Choose the correct positive degree of the given sentence :
Ooty is cooler than Mahabaleshwar.
(1) Mahabaleshwar is as cool as Ooty.
(2) Mahabaleshwar is so cool as Ooty.
(3) Mahabaleshwar is not so cool as Ooty.
(4) Ooty is as cool as Mahabaleshwar.
42. State what part of speech the underlined word is :
One must not boast of one's own success.
(1) Indefinite pronoun (2) Demonstrative pronoun
(3) Distributive pronoun (4) Relative pronoun
43. Identify the tense of the given sentence :
Jaya and Radha were being annoyed by some children.
(1) Simple Past Tense (2) Past Continuous Tense
(3) Past Perfect Tense (4) Past Perfect Continuous Tense
44. Choose the word nearest in meaning to the given word :
'Replenish'
(1) Top up (2) Supply (3) Provide (4) Share
45. Choose the word opposite in meaning to the given word :
'Grim'
(1) serious (2) painful (3) annoying (4) delightful
46. Choose the most effective word to fill in the blank :
We not hurry, we have got plenty of time.
(1) need (2) can (3) have to (4) could
47. Choose the most appropriate word to fill in the blank :
He sold his property he was under a lot of debt.
(1) so (2) therefore (3) as (4) so that
48. Choose the correct adjective to fill in the blank :
Swarali is dancer.
(1) an adapt (2) an adopt (3) a loaded (4) a skilled
49. Choose the correct pair of articles to fill in the blanks :
I read interesting story from Mahabharata.
(1) an, no article (2) an, a (3) an, the (4) a, the
50. Choose the correct pair of prepositions to fill in the blanks :
I differ you this issue.
(1) from, at (2) with, on (3) from, onto (4) with, at

Read the following extract and answer the questions by selecting the correct alternative (Q. Nos. 51 to 55) :

There isn't time, there isn't time
To do the things I want to do
With all the mountain tops to climb
And all the woods to wander through
And all the seas to sail upon
And everywhere there is to go

And all the people, every one
Who live upon the earth to know
There's only time, there's only time
To know a few, and do a few.
And then sit down and make a rhyme
About the rest I want to do.

51. The poet says that there is no time because
- (1) he is a businessman (2) life is short
(3) he is very old (4) he is a poet
52. In this poem, the poet is
- (1) sad (2) happy
(3) insecure (4) over-ambitious
53. For those things that the poet does not have any time, he wishes to
- (1) find time
(2) be happy with a few things in life
(3) imagine
(4) sit down and compose a poem
54. In this poem, the poet wants to scale :
- (1) Mountains (2) Forests
(3) Seas (4) All of these
55. Find out a word from the poem which means 'to walk slowly around' :
- (1) climb (2) wander (3) sail (4) go
56. Choose the correctly spelt word :
- (1) Pasanger (2) Pessenger
(3) Pasenger (4) Passenger
57. Find out which part of speech the underlined word belongs to :
The bottomline is that we have to make a decision today.
- (1) Noun (2) Adverb
(3) Adjective (4) Pronoun
58. Choose the grammatically correct sentence :
- (1) My brother retired from Air Force.
(2) The most of the people like it.
(3) Himalayas are the highest mountains
(4) Soham enjoyed himself at the party
59. Choose the correct phrasal verb to fill in the blank.
The Principal an explanation for his behaviour.
- (1) called off (2) called up (3) called for (4) called on
60. Identify which part of the sentence has an error :
My sister-in-laws/who live in Pandharpur/have come to stay with us/for a month.
- A B C D
(1) A (2) B (3) C (4) D

मराठी

31. खालील अक्षरांपासून तयार होणाऱ्या अर्थपूर्ण म्हणीतील शेवटच्या शब्दाचा समानार्थी शब्द कोणता ?
ते, ते, रि, व्वा, त, पो, री, उ, स, हा, चे, धा
(1) कर (2) पद्धत (3) रिकामे (4) थैली
32. राजा मंगळवेढेकर यांचे पूर्ण नाव काय ?
(1) रामचंद्र नाना मंगळवेढेकर (2) वसंत नारायण मंगळवेढेकर
(3) राजेंद्र गजानन मंगळवेढेकर (4) राजाभाऊ गणेश मंगळवेढेकर
33. 'वनवास' या पुस्तकाचे लेखक कोण आहेत ?
(1) ग. दि. माडगूळकर (2) प्रकाश संत (3) बाळकराम (4) विद्रोही
34. 'आरती सुरू झाली. घंटानाद सुरू झाला.' यांचे मिश्रवाक्य कसे होईल ?
(1) आरती सुरू झाल्यावर घंटानाद सुरू झाला
(2) आरती सुरू झाली आणि घंटानाद सुरू झाला
(3) जेव्हा आरती सुरू झाली तेव्हा घंटानाद सुरू झाला
(4) घंटानादाबरोबर आरती सुरू झाली
35. षष्ठी व सप्तमी एकवचनी विभक्तीचे अनुक्रमे प्रत्यय कोणते ?
(1) चा, ची, चे - ने, ए, शी (2) त, ई, आ - स, ला, ते
(3) त, ई, आ - चा, ची, चे (4) चा, ची, चे - त, ई, आ
36. 'बद' उपसर्ग लागून योग्य विरुद्धार्थी शब्द तयार करणारा पर्याय कोणता ?
(1) कृपा (2) मान (3) गुण (4) नाम
37. नोकरीसाठी केलेला अर्ज हा पुढीलपैकी कोणत्या पत्राचा प्रकार आहे ?
(1) कौटुंबिक पत्र (2) घरगुती पत्र (3) औपचारिक पत्र (4) अनौपचारिक पत्र
38. ए, ऐ, ओ, औ हे कोणत्या प्रकारचे स्वर आहेत ?
(1) ऱ्हस्व स्वर (2) अर्ध स्वर (3) संयुक्त स्वर (4) सजातीय स्वर
39. सर्व लघू मात्रा असणारा खालीलपैकी शब्द कोणता ?
(1) कावळा (2) चिमणी (3) कमळ (4) गुलाब
40. 'आयुष्यात यशस्वी होण्यासाठी तो' या वाक्यात योग्य वाक्प्रचार वापरा.
(1) तारे तोडणे (2) जिवाचे रान करणे (3) काणाडोळा करणे (4) ग्वाही देणे
41. पुढीलपैकी अशुद्ध शब्द ओळखा :
(1) चूर्ण (2) नविन (3) क्रीडा (4) नीती
42. पुढीलपैकी वचननियमानुसार गटात न बसणारा शब्द कोणता ?
(1) नदी (2) बी (3) काठी (4) पाखरू
43. 'सूर्य उगवला' हे कोणत्या प्रयोगाचे उदाहरण आहे ?
(1) कर्मणी (2) सकर्मक कर्तरी (3) अकर्मक कर्तरी (4) अकर्मक भावे

44. वाक्यातील विघटन होऊ न शकणारी सर्वात लहान अर्थवाहक रचना म्हणजे होय.
 (1) पद (2) पदबंध (3) उपवाक्य (4) रूपिका
45. दोन शब्द जोडताना तसेच ओळीच्या शेवटी शब्द अपुरा राहिल्यास कोणते विरामचिन्ह वापरतात ?
 (1) अर्धविराम (2) संयोगचिन्ह (3) अपूर्णविराम (4) स्वल्पविराम
46. 'लहानपण दे गा देवा। मुंगी साखरेचा रवा' हे कोणत्या अलंकाराचे उदाहरण आहे ?
 (1) रूपक (2) उत्प्रेक्षा (3) दृष्टान्त (4) उपमा
47. अद्भुत रसाचा स्थायीभाव कोणता आहे ?
 (1) शौर्य (2) वियोग (3) विस्मय (4) उत्साह
48. खालीलपैकी कोणत्या गटातील दोन्ही नामांचे 'वा' प्रत्यय लावून भाववाचक नाम तयार होणार नाही ?
 (1) गोड, ओला (2) मनुष्य, गोड (3) ओला, गार (4) गार, गोड
49. अरेरे, आणि, कडे ही अनुक्रमे कोणत्या अव्ययांची उदाहरणे आहेत ?
 (1) उभयान्वयी, शब्दयोगी, केवलप्रयोगी (2) केवलप्रयोगी, उभयान्वयी, शब्दयोगी
 (3) क्रियाविशेषण, उभयान्वयी, शब्दयोगी (4) शब्दयोगी, उभयान्वयी, केवलप्रयोगी
50. 'आज पाऊस येईल बहुतेक' या वाक्यातून कोणता अर्थ सूचित होतो ?
 (1) आज्ञार्थ (2) स्वार्थ (3) विध्यर्थ (4) संकेतार्थ
51. पुढीलपैकी संधिविग्रहाच्या नियमानुसार गटात न बसणारा शब्द कोणता ?
 (1) निष्कळ (2) निष्कपट (3) निरिच्छा (4) निष्कारण
52. कृतघ्न, घरजावई, सुखद ही कोणत्या समास प्रकाराची उदाहरणे आहेत ?
 (1) अव्ययीभाव (2) तत्पुरुष (3) द्विगू (4) द्वंद्व
53. पुढीलपैकी 'तलाव' शब्दाचा समानार्थी नसलेला शब्द कोणता ?
 (1) कासार (2) तरंगिणी (3) रत्नाकर (4) तडाग
54. पुढीलपैकी विरुद्धार्थ नसलेली जोडी कोणती ?
 (1) उदय x अस्त (2) कृपण x कंजुष (3) कृश x स्थूल (4) उघड x गुप्त

पुढील उतारा वाचून प्रश्न क्र. 55 ते 57 सोडवा : -

साने गुरुजींनी रामायणातील एक सुंदर गोष्ट सांगितली आहे. राम शबरीच्या आश्रमाजवळ फिरत असताना त्या वनात त्याला सर्वत्र फुले फुललेली दिसली. ती फुले कोमेजत नसत व त्यांना सदैव मधुरवास येत असे. शबरीकडे चौकशी केल्यावर तिने त्या फुलांचा इतिहास सांगितला. त्या ठिकाणी पूर्वी मातंग ऋषींचा आश्रम होता. पावसाळा जवळ येत होता, त्यासाठी चार महिने पुरेल इतके जळण उन्हाळ्यातच साठविणे आवश्यक होते. आश्रमात पुष्कळ विद्यार्थी होते, परंतु विद्यार्थी हे काम टाळू पहात होते. शेवटी मातंग ऋषी स्वतःच कुन्हाड घेऊन निघाले. हे पाहून विद्यार्थ्यांनाही उठावे लागे. जंगलात जाऊन त्यांनी वाळलेली लाकडे गोळा केली व मोळ्या बांधल्या. कष्ट करून

सगळे घामाघूम होऊन गेले. भर उन्हाळ्याच्या उन्हात सगळे त्या मोळ्या घेऊन चालत आश्रमात परत आले. दुसऱ्या दिवशी पहाटे उठून सगळे नदीवर आंधोळीला निघाले तेव्हा ही सुवासिक फुले उमललेली दिसली. आदल्या दिवशी जिथे जिथे त्यांनी घाम गाळला होता तिथे तिथे ही फुले उमललेली होती.

55. शबरीच्या आश्रमाजवळ फुललेल्या फुलांचे वैशिष्ट्य काय होते ?
 (1) फुले कोमेजलेली होती (2) फुले सुगंधी होती
 (3) फुले रंगीबेरंगी होती (4) फुलांना दुर्गंध येत होता.
56. या उताऱ्यातून विद्यार्थ्यांच्या मनावर काय ठसवायचे आहे ?
 (1) वेळेचे महत्त्व (2) कष्टाचे महत्त्व (3) सहकार वृत्ती (4) संयमीपणा
57. पुढीलपैकी कोणाचा उल्लेख उताऱ्यात आलेला नाही ?
 (1) राम (2) शबरी (3) मातंग ऋषी (4) दशरथ

पुढील कविता वाचून प्रश्न क्र. 58 ते 60 सोडवा :

मी मुक्तामधले मुक्त - तू कैद्यांमधला कैदी।
 माझे नि तुझे व्हायचे - ते सूर कसे संवादी ?।।
 माझ्यावर लिहिती गीते - या मंद-समीरण लहरी।
 माझ्यावर चित्रित होते - गरूडाची गर्द भरारी।।
 जड लंगर तुझिया पायी - तू पीस कसा होणार ?।
 माझ्याहुन आहे योग्य - भूमीला प्रश्न विचार।।
 आभाळ म्हणाले 'नाही' - भूमीही म्हणाली 'नाही'।
 मग विनायकाने त्यांची - आळवणी केली नाही।।
 पापण्यात जळली लंका - लाह्यांपरी आसू झाले।
 उच्चारून होण्याआधी - उच्चाटन 'शब्दा' आले।।
 दगडाची पार्थिव भिंत - तो पुढे अकल्पित सरली।
 'मी कागद झाले आहे - चल लिही' असे ती वदली।।

58. विनायकाच्या मदतीस कोण आले आहे ?
 (1) आभाळ (2) भूमी (3) भिंत (4) समुद्र
59. 'जड लंगर तुझिया पायी' या ओळीतून काय सूचित होते ?
 (1) स्वातंत्र्य (2) मुक्तपणा (3) अमर्यादपणा (4) पारतंत्र्य
60. 'दगडाची पार्थिव भिंत, तो पुढे अकल्पित सरली' या ओळीत कोणता अलंकार आला आहे ?
 (1) यमक (2) चेतनगुणोक्ती (3) उत्प्रेक्षा (4) उपमा

Child Development and Pedagogy

61. درج ذیل میں سے کون سا بیان عنفوان شباب کی خصوصیات نہیں ہے؟
- (1) عنفوان شباب میں لڑکے لڑکیوں میں خود کے جذبات میں شدت ہوتی ہے
 - (2) عنفوان شباب میں سماجی تعلقات، خاندانی تعلقات سے مربوط ہوتے ہیں
 - (3) عنفوان شباب میں طالب علم بالغ ہونے کے راستے پر ہوتے ہیں
 - (4) اس عمر میں طلبہ کی ضروریات اور دلچسپیوں کو مد نظر رکھتے ہوئے تدریس کی جانی چاہئے
62. میکڈوگل کے فطری رجحان کی درجہ بندی میں درج ذیل میں سے کون سا رجحان معاشرت میں شامل ہے؟
- (1) عبادت (2) نفرت (3) جنگ (4) حصول و تکمیل
63. کسی بات کا حصول جتنا زیادہ ہو وہ بات اتنی ہی ہماری یادداشت میں رہتی ہے۔ مطالعہ کس طریقہ سے کیا گیا اس پر حصول کا انحصار ہوتا ہے۔ کوئی عبارت یا نظم ایک وقت یا ایک نشست میں یاد نہ کرتے ہوئے وقفہ وقفہ سے یاد کی جاتی ہے۔ وقت کی تقسیم پر جنسی اس طریقہ کو ----- کہا جاتا ہے۔
- (1) کل سے جز کا طریقہ (2) درمیانی وقفہ کا طریقہ
 - (3) پیش درس کا طریقہ (4) معاون یادداشت کا طریقہ
64. وہ اشخاص جو کسی خاص صورت حال میں ایک طریقہ سے کامیابی کا تجربہ کرتے ہیں وہ دوسری صورت حال میں کامیابی کا وہی طریقہ اختیار کرتے ہیں۔ یہ تھارنڈائک کے ----- نظریہ سے حاصل ہوتا ہے۔
- (1) محرک ردعمل کا نظریہ (سعی و خطا کا نظریہ) (2) مشروط ردعملی نظریہ
 - (3) بصیرتی نظریہ (4) علاقائی نظریہ
65. مرتب مقاصد کی درجہ بندی کرتے ہوئے ----- نے عملی اور جذباتی شعبہ کی ترقی کیسے ہو اس کے مراحل یعنی مقاصد کا تعین کر کے ان کی ترتیب طے کی ہے۔
- (1) باندورا (2) ڈاکٹر بلوم (3) پیاجے (4) آسوتیل
66. قدرتی پن، موقع پرستی، درستگی، تقلید وغیرہ عناصر مقاصد کی درجہ بندی میں درج ذیل میں سے کس زمرہ میں شامل ہیں؟
- (1) عملی زمرہ (2) علمی زمرہ (3) ادراکی زمرہ (4) جذباتی زمرہ
67. معیار پر مبنی قدر پیمائی ایک اہلیتی جانچ ہے۔ درج ذیل بیانات میں سے کون سا بیان معیار پر مبنی کسوٹی کی خصوصیات نہیں ہے؟
- (1) اس ٹیسٹ کا بنیادی مقصد نصاب سے وابستہ مہارت یا صلاحیت کی پیمائش کرنا ہے
 - (2) یہ ٹیسٹ مخصوص جماعت یا کورس کے لئے تیار کیا جاتا ہے
 - (3) یہ ٹیسٹ گروپ کے رویے کی نمائندگی نہ کرتے ہوئے سب کی نمائندگی کرتا ہے
 - (4) یہ ٹیسٹ ہدایات سے پہلے اور بعد میں دیا جاسکتا ہے

Child Development and Pedagogy

61. Which of the following statements is not a characteristic of adolescence ?
- (1) Adolescent boys and girls have a very strong sense of self
 - (2) Social relationships in adolescence are complementary to family relationships
 - (3) Adolescent students are near to reach adulthood
 - (4) Teaching should be done by considering the need and interests of the students in their childhood
62. Which of the following instinctive tendencies in the societal aspects of instincts classification done by McDougall ?
- (1) Prayer (2) Urge to win
 - (3) War (4) Acquisition and creation
63. The more something is acquired, the more it stays in our memory. Acquisition depends on the method of study. A passage or a poem is not recited in one sitting but with occasional breaks. This method is based on the division of time which is called as
- (1) Part memorizing method (2) Spaced memorizing method
 - (3) Recitation memorizing method (4) Mnemonics method
64. Thorndike argues that when a person experiences success in one way in a particular situation, he/she will adopt the same way for another similar situation. This has been proved by theory.
- (1) Trial and error theory (2) Operant conditioning theory
 - (3) Insightful learning theory (4) Field theory
65. While doing hierarchical classification of objectives has decided the sequence by how the development of cognitive domain and affective domain takes place. The stages or the objectives are decided and their sequence has been determined.
- (1) Bandura (2) Dr. Bloom (3) Piaget (4) Ausubel
66. Naturalization, articulation, precision, imitation etc. elements are included in which of the following domain of hierarchical classification of objectives ?
- (1) Psychomotor domain (2) Knowledge domain
 - (3) Cognitive domain (4) Affective domain
67. Criterion based evaluation test is a competency based test. Which of the following statements is not a characteristic of criterion based test ?
- (1) The basic purpose of this test is to measure the skill or ability related to the course
 - (2) This test is designed for a specific grade or course
 - (3) This test represents the behaviour of the group rather than all
 - (4) This can be given before and after the instructions

68. طالب علم کو مطلوبہ سطح تک لانے کے لئے متوقع معیار اور اس کے موجودہ رویے کے درمیان فرق کو ختم کرنا اور طالب علم کو خود جانچ کرنا سکھانا۔ درج ذیل کس اکائی سے حاصل ہوتا ہے؟

- (1) رد عمل (2) بازیافتگی (3) بازرسانی (4) شناخت

69. ذہانت یعنی بہت سی صلاحیتوں کا مجموعہ ہے۔ درج ذیل کس ماہر نفسیات نے کہا ہے کہ ذہانت بذات خود کوئی وجود نہیں بلکہ بہت سی صلاحیتوں کا مجموعہ ہے اور انہیں بنیادی ذہنی صلاحیتوں کا نام دیا؟

- (1) تھرستون (2) اسپرمن (3) تھامسن (4) بنے

70. مخصوص مقاصد کے حصول کے لئے جب کوئی عمل وسیلہ کے طور پر مفید ہوتا ہے تو وہ مخصوص عمل آلہ کار بن جاتا ہے۔ اسے ہی وسیلتی مشروطیت (مشروط عملی) کہا جاتا ہے۔ درج ذیل بیانات میں سے کون سا بیان وسیلتی مشروطیت سے متعلق غلط ہے؟

- (1) منظم مطالعہ کا تصور اس پر مبنی ہے

(2) ایک وقت میں ایک مرحلہ، جانچ، فعال رد عمل وغیرہ اصولوں پر منظم مطالعہ کو ترتیب دیا گیا ہے

(3) اس میں تقویت کے اصول اہم ہیں

(4) وسیلتی مشروطیت مشروط عملی نظریہ ماہر نفسیات ہل نے پیش کیا

71. جذباتی ذہانت میں سالوی اور میئر نے پانچ بنیادی صلاحیتیں پیش کی ہیں۔ درج ذیل میں سے کون سی صلاحیت خود ضابطگی میں شامل نہیں ہے؟

- (1) جذباتی بیداری (2) خود پر قابو (3) احساس ذمہ داری (4) جدت پسندی

72. معلم جامع معلومات کو طلبہ تک با معنی اور موثر طریقے سے پہنچانے کے ساتھ ساتھ موضوعات کو پڑھانے کے لئے درج ذیل کس تدریسی نمونے کا استعمال کرے گا؟

- (1) تحصیل تصور کا نمونہ (2) ترقی یافتہ منتظم نمونہ

(3) کردار کی ادائیگی کا نمونہ (4) براہ راست تربیت کا نمونہ

73. نابینا طلبہ کو پڑھاتے وقت معلم کو کچھ اصولوں پر عمل کرنا ضروری ہے۔ ان طلبہ کو پڑھاتے ہوئے معلم انہیں اصل اشیاء کو سنبھالنے، اس کو محسوس کرنے اور مانوس اشیاء کے حوالے سے مثالیں دیتا ہے۔ اس سے کون سا اصول حاصل ہوتا ہے؟

- (1) مربوط ہدایات (2) ٹھوس پن (3) زیادہ کا شعور (4) خود مطالعہ

74. امتحان میں کم نمبرات حاصل کرنے والے طالب علم کا سوالیہ پرچہ مشکل تھا، جوابی پرچہ سختی سے جانچنے کی وجوہات بتاتا ہے۔ یہ درج ذیل کس نفسیاتی دفاعی نظام کی قسم ہے؟

- (1) اضلال (2) عقلی جواز (3) منتقلی (4) تلافی

75. تربیت کی حالت اور ٹیسٹ کی حالت میں کچھ عام اور ایک جیسے عناصر ہوں تو آموزش کی منتقلی ہوتی ہے۔ یہ درج ذیل کس نظریہ میں پیش کیا گیا ہے؟

- (1) ویگلے کی منتقلی کا نظریہ (2) جڈ کا نظریہ تعلیم

(3) تھارنڈائک کا یکساں اجزاء کا نظریہ (4) شخص قوت کا نمونہ

68. Bridging the gap between the expected standards and current behaviour to bring the learner up to the desired level and teaching the learner to evaluate himself can be achieved by which of the following process ?

- (1) Response (2) Recall (3) Feedback (4) Recognition

69. By saying that intelligence is a combination of various specific abilities, which of the following psychologists gave the name as primary mental ability after suggesting that intelligence is not homogeneous but a combination of various abilities.

- (1) Thurstone (2) Spearman (3) Thompson (4) Binnet

70. When an action is useful as a mean to achieve a particular goal that particular action becomes instrumental. This is called classical conditioning. Which of the following statements about classical conditioning is false ?

- (1) The idea of systematic study is based on this
(2) Sequential learning is arranged on the principles of one step at a time, verification, active response etc
(3) Reinforcement principle is important in this
(4) Classical conditioning theory has been proposed by the psychologist, Hull

71. Solvey and Mayer have proposed five basic competencies in emotional intelligence. Which of the following is not a competency in self regulation ?

- (1) Awareness of emotions (2) Self-control
(3) Innovation ability (4) A sense of responsibility

72. Which of the following model of teaching would teachers use to teach content and convey comprehensive information meaningfully and effectively to the students ?

- (1) Concept attainment model (2) Advance organizer model
(3) Role playing model (4) Direct training model

73. A teacher must follow certain principles while teaching blind students. During this process, the teacher provides sensory experiences like handling real objects and gives examples in relation to familiar objects. Which of the following principles would be achieved through it ?

- (1) Integrated instructions (2) Concreteness
(3) Extra stimulus (4) Self-learning

74. A student scoring less marks in examination, gives the reasons like the question paper was very difficult, the answer sheet was checked strictly etc. Which of the following is this type of psychological defense mechanism ?

- (1) Projection (2) Rationalization
(3) Displacement (4) Compensation

75. If both the training condition and testing condition have similar and common elements, transfer of learning takes place. In which of the following theories, this is stated ?

- (1) Bagley's theory of transformation
(2) Judd's generalization theory
(3) Thorndike's theory of identical elements
(4) Theory of formal discipline

76. باندورا کے سماجی آموزشی نظریے کے تحت تقلید کے انحصار مختلف عوامل پر ہوتا ہے۔ ایسا خیال کیا جاتا ہے کہ نقل کرنے والے بچے کی نظر میں تقلید کا انحصار اس بات پر ہوتا ہے کہ وہ شخص سماجی لحاظ سے کتنا پر وقار ہے۔ درج ذیل کون سے بیان کے تحت یہ پایا جاتا ہے؟

- (1) مثالی محرک کا معیار
(2) مثالی شخص کا اظہار سلوک
(3) مثالی شخص کے طرز عمل کا اثر
(4) مثالی شخص سے فرد کو ملنے والی تحریک
77. آزادانہ سوچ، طلبہ کے درمیان خیالات کا باہمی تبادلہ، بحث کرنے کی اہلیت، تعاون، دوسروں کو برداشت کرنا وغیرہ سماجی ترقی کرنے والا۔۔۔۔۔ تدریسی طریقہ ہے۔

- (1) بحث و مباحثہ (2) اجتماعی (3) شمولی رشمولیت (4) تنقید و تبصرہ
78. مواد پر عبور کا طریقہ پیش کرنے والے امریکی ماہر تعلیم۔۔۔۔۔ نے اس بات پر زور دیا کہ کسی موضوع کا علم حاصل کرنے کا مطلب اس موضوع کے بارے میں با معنی آگہی پیدا ہونا، با معنی تفہیم کو فروغ دینا، موضوع کی ترقی کرنا اور اس کے نتیجے سے متعلق اپنے نقطہ نظر کو تبدیل کرنا۔

- (1) مورسین (2) ہربرٹ (3) ویگلے (4) ولیم جیمس
79. پیا جے نے بچوں کی ذہنی ترقی کے نظریہ میں چار مراحل کا ذکر کیا ہے۔ اس مرحلے میں ٹھوس (مرئی) عمل کے مرحلہ کو مرئی منطقی مرحلہ بھی کہا جاتا ہے۔ یہ ترقی عام طور پر۔۔۔۔۔ عمر تک ہوتی ہے۔

- (1) 0-2 (2) 2-7 (3) 7-11 (4) 11 سال بعد
80. شیلڈن کی جسمانی ساخت اور مزاج کی بنیاد پر شخصیت کی درجہ بندی میں، وسیع زندگی بدلنے والی دلچسپیاں، خوشی اور شخص کی موافقت پذیری کس زمرے میں آتی ہیں؟

- (1) انڈومارٹک (2) میزومارٹک (3) ایکٹومارٹک (4) فلگیمٹک
81. 1957ء میں درج ذیل کس ماہر نفسیات نے اصلیت، روانی، لچک اور پیداواری تخلیق کے عناصر کو تحقیق کے ذریعے پیش کیا؟

- (1) ٹرمن (2) گوپال ایس. کے. (3) اے. کے. گپتا (4) گل فورڈ
82. طلبہ کے سابقہ تجربات کا، سابقہ معلومات کا، مسائل کو تلاش کر کے تدریس کی سمت رہنمائی اور خامیوں کی تلاش کر کے تدریس کرنا۔ یہ معاملات تدریس کے درج ذیل کن اصولوں کے تحت آتے ہیں؟

- (1) جمہوری فوقیت (2) فعالیت (3) تشخیص و معالجاتی نظریہ (4) حقیقت پسندی
83. ڈاکٹر بلوم کے بیان کردہ مقاصد کی جذباتی سطح کے کس جز کے مطابق توجہ کے بعد طلبہ کسی سرگرمی میں دلچسپی لیتے ہیں، اس میں رنج بس جاتے ہیں، اس سے متعلق پسندیدگی پیدا ہوتی ہے:

- (1) اقدار (2) ترکیب (3) قدروں کی تنظیم (4) رد عمل

76. Bandura suggested through social learning theory that imitation depends on various factors. According to the subject (imitator) child, imitation depends on the social reputation of the person to be imitated. In which of the following factors would it be seen ?

- (1) Stimulative quality of an ideal
(2) Overt behaviour of an ideal person
(3) The impact of the behaviour of an ideal person
(4) Inspiration to the subject from an ideal person

77. is a teaching method which develops social skills such as independent thinking, exchange of ideas, ability to discuss, co-operation, maximum tolerance etc. in students.

- (1) Discussion method (2) Socialized procedures
(3) Correlation method (4) Review method

78. During the presentation of the mastery unit technique, the American educator mentioned that in order to gain understanding of any subject, it should involve acquiring knowledge of that subject in our minds, envisioning its significance and consequently altering our perspective towards that subject.

- (1) Morrison (2) Herbert (3) Bagley (4) William James

79. In the theory of cognitive development of children proposed by Piaget, four stages of development are mentioned. In that, concrete operational stage which is also known as operational thought process, lasts until the age of years.

- (1) 0-2 (2) 2-7
(3) 7-11 (4) After 11 years

80. According to Sheldon's classification of personality based on body structure and temperament, which type includes the obese, happy and adaptable people who have a passion for life ?

- (1) Endomorphic (2) Mesomorphic (3) Ectomorphic (4) Phlegmatic

81. In 1957, which of the following psychologists proposed the elements of creativity like originality, fluency, flexibility and productivity through research ?

- (1) Terman (2) Gopal S.K. (3) A.K. Gupta (4) Guilford

82. Planning the direction of teaching by searching the students' previous experiences, prior knowledge, problems and teaching by finding out lacuna, comes under which of the following principles of teaching ?

- (1) Democratic primacy (2) Activeness
(3) Diagnostic and remedial approach (4) Reality

83. According to which factor in the affective domain presented by Dr. Bloom after attention, the learner gets involved in the activity, gets engaged, engrossed and develops interest about that :

- (1) Values (2) Synthesis
(3) Set of values/character (4) Response

84. شناخت کیجئے کہ سبق کی منصوبہ بندی کے حوالے سے درج ذیل بیانات میں سے کون سا بیان مکمل نہیں ہے؟
- (1) طالب علم کا ارادہ، دلچسپی، سبق کو فروغ دینے والے خیالات کو ذہن میں رکھتے ہوئے سبق کی منصوبہ بندی کرنا چاہئے
- (2) کتاب بنانے والے سے مختلف انداز اختیار کیے بغیر معلم کو اسباق کی ترتیب کے مطابق سبق کی منصوبہ بندی کرنی چاہئے
- (3) کسی بھی سبق کی منصوبہ بندی کے آخر میں قدر پیمائی کی گنجائش ہونی چاہئے
- (4) سبق کی منصوبہ بندی زیادہ تفصیلی نہیں ہونی چاہئے
85. وراثت یہ ذہانت اور شخصیت کو متاثر کرنے والا عنصر ہے۔ کس ماہر نفسیات نے ثابت کیا ہے کہ ذہانت اور شخصیت کی خصوصیات ایک نسل سے دوسرے نسل میں منتقل ہوتی ہیں؟
- (1) منڈل (2) نیومن (3) فرانس گالٹن (4) فری من
86. اجتماعیت پسند افراد نے ادراک کے شعبہ میں خاص کام کیا ہے۔ درج ذیل میں سے کون سا بیان اس جماعت کی خصوصیات نہیں ہے؟
- (1) علم طبیعیات میں تجزیہ کا رجحان نفسیات میں مفید نہیں ہوتا
- (2) بہت سے احساسات کا مجموعہ ادراک نہیں ہوتا
- (3) احساسات کی تفہیم انفرادی طور سے نہیں ہوتی
- (4) اشیاء کے مختلف حصوں کا ادراک آزادانہ ہونے کے بعد فرد کے ذریعے ترتیب دیا جاتا ہے
87. نفسیات کے مختلف طریقہ تدریس میں تجرباتی طریقہ کی حدود درج ذیل میں دی گئی ہے۔ اس میں سے کون سا بیان غلط ہے؟
- (1) اس طریقہ کے نتائج کی تصدیق کے بعد ضروری تبدیلیاں کرنا ممکن ہے
- (2) انسان اپنے جذبات کو چھپا سکتا ہے جو نتائج کو متاثر کرتا ہے
- (3) جس شخص پر تجربہ کیا جاتا ہے اس کا رویہ تجربہ کے لئے سازگار نہیں ہو تو نتائج پر اثر پڑ سکتا ہے
- (4) کچھ مسائل کی صورت میں تجربہ نہیں کیا جاسکتا
88. درج ذیل میں سے کون سا ایک غدود جسم کی ساخت اور جسامت پر اثر انداز ہوتا ہے؟
- (1) ایڈرینل غدود (2) پیوٹری غدود
- (3) تھائرائیڈ غدود (4) گوناڈ غدود جنس غدود
89. تصورات کی ترقی ہوتے وقت گھنٹہ، دن، مہینہ، سال یہ تصورات آہستہ آہستہ تشکیل پا کر۔۔۔۔۔ سال کی عمر تک بچے ماضی، حال اور مستقبل میں فرق جاننا شروع کر دیتے ہیں۔
- (1) 8-9 (2) 12-19 (3) 5-6 (4) 15-16
90. ایک گلوکار یا مصور اپنے فن میں اتنا لگن ہو جاتا ہے کہ اسے جگہ اور وقت کی خبر نہیں ہوتی۔ اس قسم کی توجہ کو۔۔۔۔۔ کہتے ہیں۔
- (1) عادت کے مطابق توجہ (2) رضا کارانہ توجہ
- (3) غیر ضروری توجہ (4) مقصدی توجہ

84. Identify which of the following statements does not complement to lesson planning.
- (1) A lesson plan should be planned with due consideration of the promoters like attitude, interest, purpose etc
- (2) The teacher should plan the lesson according to the layout or the lesson without taking a different approach from the book maker
- (3) In any teaching method, lesson plan must have scope for evaluation at the end
- (4) Lesson plan should not be too detailed
85. Heredity is a factor which influences intelligence and personality. Which psychologist has proven that intelligence and personality traits get transmitted from one generation to another.
- (1) Mendel (2) Newman (3) Francis Galton (4) Freeman
86. Gestalt school has contributed in the field of perception. Which of the following statements is not a characteristic of this school ?
- (1) Ability of synthesis used in Physics is not useful in Psychology
- (2) Summation of various sensations doesn't indicate perception
- (3) Understanding of sensations doesn't take place in isolation
- (4) Different parts of objects are perceived separately and then organized by individuals
87. Experimental method is one of the methods of studying Psychology. Some statements related to experimental methods are given below. Which statement is incorrect ?
- (1) In this method it is possible to modify conclusion if needed after verification
- (2) Human being can hide emotions, because of it conclusions get affected
- (3) The person on whom experiment has to be done (subject), if his attitude is not favourable for the experiment, then false effects might be found
- (4) Experiment cannot be conducted for certain problems
88. Which of the following glands secretes different hormones which affect the physique and mass of the body ?
- (1) Adrenal gland (2) Pituitary gland
- (3) Thyroid gland (4) Gonads/Sex gland
89. During the concept development concepts of hours, days, months, years are gradually formed. By the end of the year, children begin to understand the difference between past, present and future.
- (1) 8-9 (2) 12-19 (3) 5-6 (4) 15-16
90. When a singer or a painter get so engrossed in his art that he has no sense of space and time. This kind of attention is called
- (1) Habitual attention (2) Voluntary attention
- (3) Involuntary attention (4) Purposive attention


SOCIAL SCIENCE

91. آزاد ہند فوج کی بنیاد کس نے رکھی؟
- (1) راس بہاری بوس (2) نیتا جی سہاش چندر بوس
(3) ڈاکٹر لکشمی سوامی ناتھن (4) گرو بخش سنگھ ڈھلون
92. جنگ پلاسی میں بنگال کے نواب سراج الدولہ کی شکست ہوئی۔ وجہ بتائیے:
- (1) میر جعفر کی قیادت میں نواب کی فوج جنگ میں اتری
(2) میر قاسم نے انگریزوں کی غیر قانونی تجارت پر روک لگانے کی کوشش کی
(3) رابرٹ کلائیو کی ہوئی غداری
(4) بنگال میں برطانوی ایسٹ انڈیا کمپنی کو اقتدار حاصل ہوا
93. 'وٹال ودھوسن' نامی کتاب کے ذریعے چھوت چھات کی مذمت کی۔
- (1) گوپال بابا وٹلکر (2) مہرشی وٹھل رام جی شندے
(3) شیورام جانبا کابلے (4) اپا صاحب پٹوردھن
94. درج ذیل میں سے غلط جوڑی پہچانیے:
- (1) میزورم—لال ڈینگا (2) ناگالینڈ—انگامی جھاپونینرو
(3) آسام—پرفل کمار مہنتو (4) اروناچل پردیش—سنت ہرچرن سنگھ لوگنوال
95. دشمنوں کے فوجی ٹینک تباہ کرنے والے 'فائر اور فریٹ' جیسے میزائل کون سے ہیں؟
- (1) ناگ (2) پرتھوی (3) آگنی (4) آکاش
96. درج ذیل میں سے کونسا پروگرام ساتواں پنجسالہ منصوبے سے تعلق رکھتا ہے؟
- (1) مشمول دیہی ترقیاتی پروگرام (2) قومی دیہی روزگار پروگرام
(3) سلیم فولاد پروجیکٹ (4) دس لاکھ کنوؤں کی کھدائی کا منصوبہ
97. درج ذیل میں سے کونسی خصوصیات جدید تاریخ نویسی کے طریقوں میں شامل نہیں ہے؟
- (1) سائنسی طریقہ کار (2) انسانی سرگرمیوں کا تعلق دیو مالائی کہانیوں سے جوڑنے کی کوشش
(3) انسان مرکوز سوالات (4) قابل اعتماد تاریخی ثبوت
98. جنتر منتر: جے پور :: رانی کی باؤ:؟
- (1) چندلی گڑھ (2) ولی (3) پاشن، گجرات (4) ممبئی
99. گروہ میں شامل نہ ہونے والا شہر پہچانیے:
- یودھئے، مالو، شودرک، لچھاوی
(1) یودھئے (2) مالو (3) شودرک (4) لچھاوی

SOCIAL SCIENCE

91. Who established Indian National Army ? (Azad Hind Sena) :
- (1) Rash Behari Bose (2) Netaji Subhash Chandra Bose
(3) Dr. Laxmi Swaminathan (4) Gurbaksh Singh Dhillon
92. Nawab of Bengal Siraj-ud-Daulah was defeated in the battle of Plassey because :
- (1) Nawab's army entered battle under leadership of Mir Jafar
(2) Mir Kasim tried to put restrictions on illegal trade of British
(3) Robert Clive's diplomacy
(4) British East India Company got the right to collect revenue from Bengal
93. Through his book 'Vitaal Vidhwansan' condemned untouchability.
- (1) Gopal Baba Walangkar (2) Maharshi Vitthal Ramji Shinde
(3) Shivram Janba Kambale (4) Appasaheb Patwardhan
94. Find the incorrect pair from below :
- (1) Mizoram - Laldenga
(2) Nagaland - Angami Zapu Fizo
(3) Assam - Prafullakumar Mohanto
(4) Arunachal Pradesh - Sant Harcharan Singh Longowal
95. The 'Fire and Forget' type missile that destroys the tanks of enemies is called as
- (1) Nag (2) Prithvi (3) Agni (4) Akash
96. Which of the following programmes is related with the Seventh Five Year Plan ?
- (1) Integrated Rural Development Programme
(2) National Rural Employment Programme
(3) Salem Steel Plant
(4) Scheme of 10 lakh wells
97. Which of the following characteristics is not included in Modern Historiography ?
- (1) Scientific Principles
(2) Attempt of associating human deeds to divine phenomena
(3) Anthropocentric questions
(4) Supported by reliable evidence
98. Jantar Mantar : Jaipur :: Rani-Ki-Vav : ?
- (1) Chandigarh (2) Delhi (3) Patan, Gujrat (4) Mumbai
99. Find the odd man out :
- Yaudheya, Malava, Kshudraka, Lichchhavi
- (1) Yaudheya (2) Malava
(3) Kshudraka (4) Lichchhavi

100. برہمہ گیری، سوپارا، گرنا، سہرام یہ کن جگہوں کے لئے مشہور ہیں؟
 (1) سمرات اشوک کے کتبے (2) سمرات اشوک کے ستون
 (3) بدھ مذہب کے استوپ (4) قدیم تجارتی نقطہ نظر سے اہم شہر
101. مغل دور میں فن مصوری (آرٹ) کی ابتداء ----- مصوری سے ہوئی۔
 (1) ایرانی (2) یونانی (گریک) (3) رومی (4) یورپی
102. ذیل میں سے غلط جوڑی پہچانیے :
 (1) جیمس واٹ — بھاپ کا انجن (2) ایڈمنڈ کارٹ رائٹ — پاورلوم
 (3) سیمپول کرائپٹن — میول (4) جون کے — اسپیننگ جینی
103. مزدور رہنما وی. سوہیا ----- مقبوضہ علاقے کی آزادی کے لئے کام کر رہے تھے۔
 (1) ڈچ (2) پرتگیزی (3) فرانسیسی (French) (4) برٹش (انگریز)
104. بہرجی نائیک : جاسوسی شعبے کے سربراہ :: پرتاپ راؤ گجر : ?
 (1) آرمینٹ کا چیف آفیسر (2) گھڑسوار فوج کا اعلیٰ افسر (سرنوبت)
 (3) سوراج کا وزیر خزانہ (4) سوراج کا وزیر عدلیہ
105. نیچے دی گئی نشان امتیاز کس بین الاقوامی تنظیم کی ہے؟




106. (1) سارک (2) اقوام متحدہ (3) برکس (4) کامن ویلتھ
 ہڑپا : راوی :: ہلاس : ?
 (1) گنگا (2) جمنا (3) ستلج (4) چناب
107. مناسب جوڑیاں لگائیے :
 گروپ 'A' گروپ 'B'
 (A) کوسل (i) کوشمی
 (B) وٹس (ii) راج گرہ
 (C) اونتی (iii) شراوتی
 (D) مگدھ (iv) اُتھین

- (D) (C) (B) (A) (D) (C) (B) (A)
 (ii) (iv) (iii) (i) (ii) (iv) (i) (iii) (1)
 (i) (ii) (iv) (iii) (i) (iii) (iv) (ii) (3)

108. فونان کی قدیم سلطنت پہلی صدی عیسوی میں ----- ملک میں قائم کی گئی؟
 (1) چین (2) تھائی لینڈ (3) میانمار (4) کمبوڈیا

100. Brahmagiri, Sopara, Girnar, Sahastram are famous for what ?
 (1) Ashoka's stone inscriptions (2) Ashoka's pillars
 (3) Bauddha stupas (4) Ancient cities important for trade
101. Mughal paintings originated from style of painting.
 (1) Persian (2) Greek (3) Roman (4) European
102. Find the incorrect pair from below :
 (1) James Watt - Steam Engine (2) Edmund Cartwright - Power loom
 (3) Samuel Crompton - Mule (4) John Kay - Spinning Jenny
103. Trade Unionist leader V. Subbayya worked for merger of colony that was under :
 (1) Dutch (2) Portuguese (3) French (4) British
104. Bahirji Naik : Head of intelligence department :: Prataprao Gujar : ?
 (1) Chief of Navy (2) Sarnobat of Cavalry
 (3) Amatya of Swarajya (4) Nyayadhish of Swarajya
105. This symbol is associated with which international organisation ?



- (1) SAARC (2) United Nations Organisation
 (3) BRICS (4) Commonwealth
106. Harappa : Ravi :: Hulas : ?
 (1) Ganga (2) Yamuna (3) Sutlej (4) Chinab
107. Find correct pairs :
 Group 'A' Group 'B'
 (A) Kosala (i) Kaushambi
 (B) Vatsa (ii) Rajgriha
 (C) Avanti (iii) Shravasti
 (D) Magadha (iv) Ujjain
- (A) (B) (C) (D) (A) (B) (C) (D)
 (1) (iii) (i) (iv) (ii) (2) (i) (iii) (iv) (ii)
 (3) (ii) (iv) (iii) (i) (4) (iii) (iv) (ii) (i)
108. The ancient kingdom of 'Funan' was established in in the first century C.E.
 (1) China (2) Thailand (3) Myanmar (4) Cambodia

109. The treatise 'Leelacharitra' was compiled by
- (1) Chakradhar Swami (2) Mhaimbhat
(3) Mahadamba (4) Keshobas
110. Find the correct pairs :
- | Group 'A' | | | | Group 'B' | | | |
|-------------------------|-------------------------|-------------------------|-------------------------|-----------|--|--|--|
| (A) Indore | (i) Bhosale | (A) Indore | (i) Bhosale | | | | |
| (B) Nagpur | (ii) Gaikwad | (B) Nagpur | (ii) Gaikwad | | | | |
| (C) Gwalior | (iii) Holkar | (C) Gwalior | (iii) Holkar | | | | |
| (D) Vadodara | (iv) Shinde | (D) Vadodara | (iv) Shinde | | | | |
| (A) (B) (C) (D) | (A) (B) (C) (D) | (A) (B) (C) (D) | (A) (B) (C) (D) | | | | |
| (1) (iv) (ii) (iii) (i) | (2) (iii) (i) (iv) (ii) | (1) (iv) (ii) (iii) (i) | (2) (iii) (i) (iv) (ii) | | | | |
| (3) (i) (iii) (ii) (iv) | (4) (ii) (iv) (i) (iii) | (3) (i) (iii) (ii) (iv) | (4) (ii) (iv) (i) (iii) | | | | |
111. Writ issued to protect citizen from unlawful arrest and detention is known as :
- (1) Mandamus (2) Prohibition
(3) Certiorari (4) Habeas Corpus
112. The State Government : Vidhan Sabha :: Local Government : ?
- (1) Vidhan Parishad (2) Rajya Sabha
(3) Lok Sabha (4) The Municipal Corporation
113. Which of the following functions is not done by the District Collector ?
- (1) Presides over the meetings of Zilla Parishad
(2) To ensure smooth conduct of elections
(3) To restrict unlawful assembly, impose curfew if required
(4) To collect agricultural tax
114. Creating constituencies is responsibility of Commission of Election Commission.
- (1) Selection (2) Voting
(3) Timetable (4) Delimitation
115. As citizen we have freedom of speech and expression, assemble peacefully, can form associations or unions. These are examples of
- (1) Right to Equality (2) Right to Liberty
(3) Right against exploitation (4) Cultural and Educational Right
116. Find the odd man out :
- Germany, Italy, Spain, United States of America
- (1) Germany (2) Italy
(3) Spain (4) United States of America
117. The policies of Perestroika and Glasnost were introduced by
- (1) Vladimir Putin (2) Stalin
(3) Marshal Zukov (4) Mikhail Gorbachev

109. 'لیلاچرتر' یہ کتاب نے لکھی ہے۔
- (1) چکر دھر سوامی (2) مہائی بھٹ (3) مہدمبا (4) کیشوباس
110. مناسب جوڑیاں لگائیے :
- | گروپ 'A' | | | | گروپ 'B' | | | |
|-------------------------|-------------------------|-------------------------|-------------------------|----------|--|--|--|
| (A) اندور | (i) بھوسلے | (A) اندور | (i) بھوسلے | | | | |
| (B) ناگپور | (ii) گائیکواڈ | (B) ناگپور | (ii) گائیکواڈ | | | | |
| (C) گوالیار | (iii) ہولکر | (C) گوالیار | (iii) ہولکر | | | | |
| (D) وڈودرا | (iv) شندے | (D) وڈودرا | (iv) شندے | | | | |
| (A) (B) (C) (D) | (A) (B) (C) (D) | (A) (B) (C) (D) | (A) (B) (C) (D) | | | | |
| (1) (iv) (ii) (iii) (i) | (2) (iii) (i) (iv) (ii) | (1) (iv) (ii) (iii) (i) | (2) (iii) (i) (iv) (ii) | | | | |
| (3) (i) (iii) (ii) (iv) | (4) (ii) (iv) (i) (iii) | (3) (i) (iii) (ii) (iv) | (4) (ii) (iv) (i) (iii) | | | | |
111. شہریوں کو غیر قانونی گرفتاری اور حمل و نقل پر پابندی سے تحفظ دینے والا حکم یعنی ہے۔
- (1) مینڈامس (2) ممانعت (حکم امتناع) (3) مسل طلبی (4) شخصی پیشی
112. ریاستی حکومت : ودھان سبھا :: مقامی حکومت : ?
- (1) ودھان پریشڈ (2) راجیہ سبھا (3) لوک سبھا (4) مہانگر پارلیکا
113. درج ذیل میں سے کون سے کام حاکم ضلع کے نہیں ہے ؟
- (1) ضلع پریشڈ کے اجلاس کی صدارت کرنا
(2) رائے دہندگان کی فہرست کو از سر نو ترتیب کرنا
(3) اجلاس پر پابندی لگانا، کرنیو نافذ کرنا
(4) کھیت کا لگان وصول کرنا
114. حلقہ انتخاب کی تشکیل کا کام الیکشن کمیشن کی کمیٹی کرتی ہے۔
- (1) انتخاب (2) ووٹ (ووٹنگ) (3) تقسیم اوقات (4) حد بندی
115. بحیثیت شہری ہم کو تقریری اور اظہار کی آزادی ہے۔ پُر امن طریقے سے جمع ہو کر اجلاس منعقد کر سکتے ہیں۔ ادارے اور تنظیمیں قائم کر سکتے ہیں۔ یہ کی مثالیں ہیں۔
- (1) مساوات کا حق (2) آزادی کا حق
(3) استحصال کی مخالفت کا حق (4) تہذیب و تعلیم کا حق
116. گروہ میں شامل نہ ہونے والا لفظ پہچانیے :
- جرمنی، اٹلی، اسپین، امریکہ
- (1) جرمنی (2) اٹلی (3) اسپین (4) امریکہ
117. تشکیل نو (پیرسٹرویکا) اور شفافیت (گلاسٹونست) یہ پالیسیاں نے عمل میں لائی۔
- (1) ولادیمیر پوتین (2) اشالن (3) مارشل زوکاؤ (4) میخائل گورباچوف

118. NPT and CTBT are treaties related to :

- (1) Missiles (2) Nuclear Weapons
(3) End of War (4) International Trade

119. The Commander in Chief of Indian Armed Forces is

- (1) The President (2) The Prime Minister
(3) Home Minister (4) Defense Minister

120. Which of the following bill can be included as Money Bill ?

- (1) Bill regarding giving state status to Union Territory
(2) Bill related to structure of Income Tax
(3) Bill related to constitutional amendment
(4) Bill related to execution of New Education Policy

121. Block disintegration process is the activity of

- (1) Biological Weathering (2) Chemical Weathering
(3) Physical Weathering (4) Oxidation

122. IT industry is developed as silicon valley in California in North America. In India, where is the Silicon plateau ?

- (1) Telangana (2) Tibet
(3) Deccan (4) Chota Nagpur

123. The country which achieved progress of 100 years in just 10 years is

- (1) China (2) Japan (3) Taiwan (4) Germany

124. Cape Town to Cairo is the longest railway route separated by lake in Africa.

- (1) Great Lakes (2) Balkan (3) Victoria (4) Baikal





125. The retirement age is 60 years in India. What is the retirement age in Japan ?

- (1) 60 (2) 58 (3) 70 (4) 65

126. The film industry is included in activity.

- (1) Primary (2) Secondary
(3) Tertiary (4) Quaternary

127. In toposheets, the permanent settlements are shown by

- (1)  (2) 
(3)  (4) 

118. NPT اور CTBT یہ ---- متعلقہ معاہدے ہیں۔

- (1) میزائل (2) ایٹمی ہتھیار
(3) جنگ بندی (4) بین الاقوامی تجارت

119. انڈین دفاعی افواج کا سربراہ اعلیٰ ---- ہوتا ہے۔

- (1) صدر جمہوریہ (2) وزیر اعظم (3) وزیر داخلہ (4) وزیر دفاع

120. مالیاتی بل میں مندرجہ ذیل میں سے کس شعبے سے متعلق بل شامل ہے؟

- (1) مرکزی بیرونی علاقے کو ریاست کا درجہ دینے کے بارے میں
(2) انکم ٹیکس کے ڈھانچے کے نظام کو تبدیل کرنے کے تعلق سے
(3) آئینی ترمیمات کرنے سے متعلق
(4) نئی تعلیمی پالیسی کے نفاذ کے حوالے سے

121. چٹانوں کا بکھراؤ یہ عمل درج ذیل میں سے کس قسم کی ہے؟

- (1) حیاتیاتی فرسودگی (2) کیمیائی فرسودگی (3) طبعی فرسودگی (4) خاکستر سازی

122. انفارمیشن ٹیکنالوجی کی صنعت کے لحاظ سے شمالی امریکہ کے کیلی فورنیا میں سیلیکان وادی (Silicon Valley) ہے۔ اس لحاظ سے بھارت میں سیلیکان وادی ---- سطح مرتفع میں ہے۔

- (1) تلنگانہ (2) تبت (3) دکن (4) چھوٹا ناگپور

123. ---- کو دنیا کا سب سے زیادہ صنعتی ترقی یافتہ ملک کہا جاتا ہے۔

- (1) چین (2) جاپان (3) تائیوان (4) جرمنی

124. کیپ ٹاؤن سے قاہرہ تک افریقہ کی سب سے لمبی ریلوے لائن کے لئے ---- جھیل کی وجہ سے رکاوٹ بنی ہوئی ہے۔

- (1) عظیم جھیلیں (2) بالکن (3) وکٹوریہ (4) بیکال





125. بھارت میں ریٹائرمنٹ کی اوسط عمر 60 سال ہے تو جاپان میں ریٹائرمنٹ کی عمر ---- ہے۔

- (1) 60 (2) 58 (3) 70 (4) 65

126. فلمی صنعت کا شمار کس پیشے میں ہوتا ہے، بتائیے :

- (1) ابتدائی پیشہ (2) ثانوی پیشہ (3) ثلاثی پیشہ (4) ربی پیشہ

127. ٹوپو شیٹ میں پکی بستیوں کو کس علامت سے ظاہر کیا جاتا ہے؟

- (1)  (2)  (3)  (4) 

128. ---- ہوا کی آبی بخارات کو سونے کی صلاحیت زیادہ ہوتی ہے۔
 (1) خشک (2) حرارت (3) سرد (4) گرم
129. آب و ہوا میں ---- یہ عنصر حرارت اور آبی بخارات کو سونے میں اہم ہے۔
 (1) دباؤ (2) بارش (3) درجہ حرارت (4) ہوا
130. درج ذیل میں سے غلط جوڑی پہچانیے :
 (1) درجہ حرارت - خطوط مساوی حرارت (Isotherm)
 (2) ہوا کا دباؤ - خطوط مساوی بار (Isobar)
 (3) سمندر کی نمکیت - خطوط مساوی آب (Isobath)
 (4) سطح سمندر سے اونچائی - قنطوری خطوط (Contour lines)
131. 'مامن' یعنی ----
 (1) جہاں جنگلات میں اضافے کے لئے آزادی دی جاتی ہے
 (2) جہاں انسانوں کو تحفظ دیا جاتا ہے
 (3) جہاں جانور اور پرندے آزادانہ گھومتے پھرتے ہیں
 (4) جہاں انسانوں کا جانوروں کے تشدد سے تحفظ ہوتا ہے
132. کسی بھی علاقے میں زیادہ مرکزیت ہو تو حکومت لامرکزیت پالیسی اختیار کرتی ہے۔ وجہ بتائیے۔
 (1) ایک ہی علاقے کی ترقی سب سے زیادہ ہوتی ہے
 (2) دوسرے علاقے میں وافر مقدار میں زمین مہیا ہوتی ہے
 (3) آبادی کی یکساں تقسیم ہونے کے لئے
 (4) سبھی علاقوں کی معاشی ترقی ہونے کے لئے
133. قابل نظر انداز آبادی میں اضافہ کا مطلب ----
 (1) شرح پیدائش زیادہ اور شرح اموات کم
 (2) شرح پیدائش کم اور شرح اموات کم
 (3) ہجرت (منتقلی)
 (4) کم شرح خواندگی
134. مندرجہ ذیل میں سے کونسا عنصر علاقائی ترقی کے لئے زیادہ سازگار ہے؟
 (1) قابل رسائی دریا (Accessible rivers)
 (2) اچھے قدرتی بندرگاہیں
 (3) طبعی عناصر
 (4) قدرتی وسائل کی دولت اور آبادی
135. منڈی باغاتی کاشتکاری کو 'ٹرک زراعت' کہا جاتا ہے۔ وجہ بتائیے :
 (1) پیداوار کی ایک جدید قسم ہے
 (2) شہروں کو ٹرک کے ذریعے سبزی ترکاری مہیا کی جاتی ہے
 (3) یک فصلی کھیتی کی پیداوار ہوتی ہے
 (4) ٹرک کے ذریعے کھیتوں کا سامان بندرگاہ پر پہنچایا جاتا ہے

128. The capacity of air to hold moisture is more in air.
 (1) Dry (2) Hot (3) Cold (4) Warm
129. Which climatic factor is more important to carry heat and moisture ?
 (1) Pressure (2) Rainfall (3) Temperature (4) Winds
130. Find out wrong pair :
 (1) Temperature - Isotherm lines (2) Air Pressure - Isobar lines
 (3) Sea Salinity - Isobath lines (4) Altitude from MSL - Contour lines
131. Sanctuary means
 (1) Freedom to grow vegetation
 (2) Protection to man
 (3) Freely movement of animals and birds
 (4) Protection is given to man from wild animals
132. If more centralisation occurred in some regions, then government implies decentralisation, because :
 (1) More development of any one region
 (2) More availability of land in other region
 (3) For evenly distribution of population
 (4) For overall development of all regions
133. The negligible population growth means
 (1) More birth rate and less death rate
 (2) Less birth rate and death rate
 (3) Migration
 (4) Lower rate of literacy
134. Which factor is more favourable for regional development ?
 (1) Accessible rivers (2) Good natural harbours
 (3) Physical factors (4) Natural resources and population
135. Why market farming is called as truck farming ?
 (1) It's a modern type of production
 (2) To supply vegetables to city by trucks
 (3) Monoculture production in agriculture
 (4) To supply agro-products to ports by trucks

136. کسی زمینی علاقہ کی ڈھلوان، اونچائی اور بلندی کو سمجھنے کا سب سے بہترین طریقہ ----- ہے۔

- (1) علامتی طریقہ (2) پہاڑی سایے کا طریقہ (Hill shading)
(3) قسطوری خطوط (4) پینچ مارک طریقہ

137. 1 انچ = 3 میل۔ اس لفظی پیمانے کی عددی پیمانے میں تبدیلی درج ذیل میں سے کون سی ہے۔ (برطانوی اکائی نظام کے لحاظ سے)؟

- (1) 1 : 63,360 (2) 1 : 3,16,800 (3) 1 : 1,90,080 (4) 1 : 108

138. آتش چٹانوں میں معدنی دولت وافر ہے۔ جبکہ مہاراشٹر میں ہر جگہ معدنی ذخائر نہیں پائے جاتے۔ کیوں۔

- (1) آتش چٹانوں میں معدنیات تمام علاقوں میں نہیں پائی جاتی ہیں
(2) مہاراشٹر کا زیادہ تر حصہ دکن کی ڈھال (شیلڈ) کے علاقے محیط ہیں
(3) مہاراشٹر کے چند علاقوں میں آتش چٹانیں پائی جاتی ہیں
(4) مہاراشٹر کے کئی حصوں میں زرخیز زرعی مٹی پائی جاتی ہے

139. درج ذیل میں سے کن راستوں سے گزرتے وقت بین الاقوامی خط تاریخ پار کرنا پڑے گا؟

- (1) لندن - ڈبئی - ممبئی - ٹوکیو
(2) ممبئی - لندن - واشنگٹن - کیلی فورنیا
(3) ممبئی - سنگاپور - سڈنی - ریو-دی-جنرو
(4) کولکاتا - دہلی - لندن - نیویارک
(5) چینی - سنگاپور - ٹوکیو - کوپے

- (1) (2), (3), (4) (2) (2), (3), (4) (3) (2), (4), (5) (4) (4), (3), (1) (1), (2), (3) (4)

140. جب زمین کا سورج سے فاصلہ کم سے کم ہوتا ہے۔ اس حالت کو ----- کہتے ہیں۔

- (1) قرب شمسی حالت (2) بعد شمسی حالت (3) حالت اعتدال (4) حالت عین

141. نہر سوئیز بہت اہم ہے۔ کیوں؟

- (1) یہ سطح سمندر پر واقع ہے
(2) یہ ممبئی اور یورپی ملکوں کو جوڑتی ہے
(3) اس سے وقت اور فاصلہ کی بچت ہوتی ہے
(4) یہ خانگی راستہ ہے

142. زمین کے قلب کا تقریباً درجہ حرارت ----- ہوتا ہے۔

- (1) سورج کا سطحی درجہ حرارت (2) چاند کا درجہ حرارت
(3) پانی کا نقطہ ابال (4) جوہری تعامل گر (Atomic reactor)

136. The best method to understand slope, altitude and relief features of a region is

- (1) Signs (2) Hill shading
(3) Contours (4) Benchmark

137. What is the numerical scale of verbal scale 1 inch = 3 mile in British unit system ?

- (1) 1 : 63,360 (2) 1 : 3,16,800
(3) 1 : 1,90,080 (4) 1 : 108

138. Minerals are found in the igneous rocks but minerals are not found everywhere in Maharashtra, because

- (1) Minerals are not found in the igneous rocks in all regions
(2) Shield area of the Deccan plateau has covered large area of Maharashtra
(3) Minerals are found in eastern and southern Maharashtra
(4) Farming is practiced in many parts of Maharashtra

139. Which route crosses the international date line ?

- (1) London - Dubai - Mumbai - Tokyo
(2) Mumbai - London - Washington - California
(3) Mumbai - Singapore - Sydney - Rio-de-Janeiro
(4) Kolkata - Delhi - London - New York
(5) Chennai - Singapore - Tokyo - Kobe
(1) (2), (3), (4) (2) (2), (4), (5)
(3) (4), (3), (1) (4) (1), (2), (3)

140. When the earth is close to the Sun, that position is called

- (1) Perihelion (2) Aphelion (3) Equinox (4) Solstice

141. Suez Canal is very important because

- (1) It is at sea level
(2) It connects Mumbai and European countries
(3) It saves time and distance
(4) It is a private route

142. Temperature of the Earth's core is equivalent to


- (1) Temperature of the surface of the Sun
(2) Temperature of the moon
(3) The boiling point of water
(4) Atomic reactor

143. ہندوستان میں اندرون ملک آبی راستے تیار نہیں ہوتے۔ کیوں؟
- (1) یہاں کے دریا کم لمبائی کے ہیں (2) دریاؤں میں گاد کی مقدار زیادہ ہوتی ہے
(3) ندیاں ایک دوسرے سے جڑی ہوئی نہیں ہیں (4) بہت سی ندیاں موسمی ہیں
144. دنیا کا سب سے بڑا ذلذلی علاقہ بحر آرکٹک کے قریب سائبیریائی علاقے میں پایا جاتا ہے:
- (1) یہ سطح سمندر کے مقابلے میں نیچلی سطح پر ہے
(2) یہاں میدانی علاقہ ہونے کی وجہ سے کئی دریاؤں کے ڈیلٹائی علاقے ہیں
(3) موسم سرما میں منجمد دریا اور ناقص نکاسی
(4) یہاں آبی حمل و نقل کا راستہ نہیں ہے
145. خطوط مساوی حرارت کو شمالی نصف کرہ میں منحرف اور کم فاصلے پر دیکھا جاتا ہے:
- (1) یہاں خطوط مساوی حرارت کا درجہ کم ہے
(2) یہاں آبی رقبہ کے موازنے میں خشکی کا رقبہ زیادہ ہے
(3) آبی اور خشکی کے درجہ حرارت میں فرق
(4) درجہ بالا متبادل میں سے (2) اور (3) دونوں کا اثر ہے
146. جب کسی علاقے کا رقبہ کم اور آبادی زیادہ ہوتی ہے تب وہاں آبادی کا گنجان پن ----- ہوتا ہے۔
- (1) منتشر (2) کم (3) اوسط (4) زیادہ
147. 30° شمالی عرض البلد پر براعظم شمالی امریکہ کا ----- شہر واقع ہے۔
- (1) بصرہ (2) لہاسا (3) نیو آریلینس (4) قاہرہ
148. ----- یہ آتشی چٹان ہے۔
- (1) بسالٹ (2) بھر بھرے پتھری چٹان (3) سنگ مرمر (4) چن کھڑی
149. درج ذیل میں سے دکھائے گئے ٹوپوٹیٹ نقشے میں دئے گئے جڑ کے لئے کونسی علامت استعمال کی جاتی ہے؟



- (1) قبر (2) سادھی (چھتری) (3) قلعے (4) قبرستان
150. 'مصوری' یہ سردیاتی مقام درج ذیل میں سے کس ریاست میں ہے؟
- (1) جمو و کشمیر (2) کرناٹک (3) آسام (4) اترکھنڈ

143. Inland waterways are not developed in India, because
- (1) Rivers are in short length (2) Large siltation in rivers
(3) Rivers are not interconnected (4) Many rivers are seasonal
144. The world's largest swamps are found in Siberian region near Arctic Ocean, reason :
- (1) It is lowland than sea level
(2) Plain land with delta region
(3) Winter frozen rivers and poorly drained
(4) No waterways available
145. The isotherm lines in the Northern Hemisphere are curved and close, because
- (1) Degrees of isotherm lines are less
(2) Large landmass is available than water mass
(3) Difference in the temperature of land and water
(4) Effect of above options (2) and (3)
146. The density of population is when area is less and population is more.
- (1) Sparse (2) Less
(3) Moderate (4) More
147. Which city is situated at 30° N latitude ?
- (1) Basra (2) Lhasa
(3) New Orleans (4) Cairo
148. is an igneous rock.
- (1) Basalt (2) Sandstone
(3) Marble (4) Limestone
149. Identify the following symbol :



- (1) Tomb (2) Chhatri
(3) Fort (4) Graveyard
150. The hill station Mussoorie is located in State.
- (1) Jammu and Kashmir (2) Karnataka
(3) Assam (4) Uttarakhand

Exam Code 1124	Paper Code : 302 (SS)	
Time : 2:30 PM to 5:00 PM	Medium : Urdu	

Seat No.

--	--	--	--	--	--	--	--	--	--

Set

B

Total Marks	150
Total Pages	36

**Paper II (Std. VI to Std. VIII)
Social Science**



Kindly read below instructions before solving the Question Paper

Ensure that you have received the Question Paper of selected Optional Subject.

Instructions :-

- Candidates should write their seat number on Question Paper at provided space.
- Candidates should write their seat number on OMR SHEET at provided space.
- Total no. of questions are 150 for this paper & candidate will get 150 Minutes (Two & half hours) to solve 150 questions. All questions carry one mark each. All questions are compulsory.
- Each question in this paper is objective type and four options are provided for each question, out of which only one option is correct. Candidate has to mark only one option out of four by darkening the corresponding circle on OMR SHEET using Black or Blue ball pen only. Half marked circles, mistakes while darkening or marking two options will not be considered as correct. Option once marked on OMR SHEET cannot be changed later.
- If question is cancelled due to any reason the eligibility will be decided based on the marks obtained against the accurate question.
- Do not write/mark answers in the question booklet. Do not separate/tear any section from the, main question paper booklet.
- The rough work is to be done in the page/space provided in the question booklet.
- OMR BARCODE no. question paper serial no. and SET CODE should be properly mentioned on Signature Roll.
- Present your exam admit card if requested by the Supervisor/Invigilator.
- Question paper contains medium-wise sections as shown below :

Section	Subject	Question No.	Marks
1	Urdu	1 To 30	30
2	English/Marathi	31 To 60	30
3	Child Development & Pedagogy	61 To 90	30
4	Social Science	91 To 150	60

- While submitting your OMR answer sheet to invigilator, make sure that there are three copies containing one main copy and two carbonless copies. Candidate should keep candidates carbonless copy with themselves. Do not separate the other carbonless copy meant for MSCE.
- Do not leave the examination hall without invigilators instruction.
- If candidate takes any exam related material out of the examination hall during or after the exam, his/her candidature will be cancelled.
- Candidate should not bring mobile, smart watch, calculator, Logtable or any other unnecessary material into the examination hall.
- After the allotted exam time, candidates are allowed to take the Question Paper along with them. Providing the copy/content of the question paper to any other person before the exam time is over is a punishable offence and concerned candidate will have to face legal action as per the provisions under "THE MALPRACTICE PREVENTION ACT OF 1982 OF THE STATE".
- Candidate should remove the Question Paper seal only after the exam time starts. No seal should be removed before the starting of the allotted exam time.
- In case ambiguity between translation of Marathi or any other medium and English medium, questions in English medium will be considered as final for all mediums.

SEAL